



# FICHAS PARA PRIMARIA

## PRIMERO ARITMETICA



# Sistema Monetario del Perú - Problemas

Estas son mis monedas...

Menores que un nuevo sol



10 céntimos



20 céntimos



50 céntimos



1 nuevo sol

Mayores que un nuevo sol



2 nuevos soles



5 nuevos soles



Sería conveniente decir que aunque al comprar decimos soles, en realidad nuestra moneda es el nuevo sol.

## Estos son mis billetes...



S/. 200



S/. 100



S/. 20



S/. 50



S/. 10



## Actividades

► Observa los objetos y contesta las preguntas.

1 ¿Cuánto dinero tiene cada niño?

a) Yo tengo una moneda de 50 céntimos, otra de 20 céntimos y otra de 10 céntimos.

$$\boxed{50} + \boxed{20} + \boxed{10} = \boxed{80} \text{ céntimos}$$

Ricardo tiene ochenta céntimos



b) Yo tengo una moneda de 5 soles, otra de 1 sol y otra de 2 soles.

$$\boxed{\phantom{00}} + \boxed{\phantom{00}} + \boxed{\phantom{00}} = \boxed{\phantom{00}} \text{ nuevos soles}$$

Luisa tiene \_\_\_\_\_ nuevos soles



¿Cuánto dinero hay en cada bandeja?

2



$$50 + \square + \square + \square = \square$$

3



$$\square + \square + \square + \square + \square = \square$$

Encierra la cantidad que se indica; observa el ejemplo

4

30 soles




5

15 soles



6

70 céntimos



## Exigimos más

7 Resuelve el siguiente problema:



¿Cuánto me devuelven?

$$65 - \square = \square$$

Me devuelven \_\_\_\_\_ nuevos soles

Completa correctamente, observa el ejemplo

	Compro por un valor de	Pago con	Me devuelven
8	<p>14 soles</p>		$15 - 14 = 1$
9	<p>42 soles</p>		$\square - \square = \square$







10

a)	Compro por un valor de	Pago con	Me devuelven	
	51 soles		<input type="text"/> ○ <input type="text"/> = <input type="text"/>	
b)		65 soles		<input type="text"/> ○ <input type="text"/> = <input type="text"/>



## Demuestro mis habilidades

► Observa cada situación y resuelve.

Aletas	Lentes	Flotador	Salvavidas
			

11 Jana tiene 24 soles. ¿Cuánto le falta para comprar las aletas?

D	U	
4	3	-
2	4	
1	9	

Le falta **diecinueve** nuevos soles

12 Andrea quiere los lentes y tiene 18 soles. ¿Cuánto le falta?

D	U	

Le falta \_\_\_\_\_ nuevos soles

13 Sebastián entrega 99 soles y le dan un flotador. ¿Cuánto le queda?

D	U	

Le quedan \_\_\_\_\_ nuevos soles.

14 Alicia quiere el flotador y tiene 30 soles. ¿Cuántos soles le faltan?

D	U	

Le faltan \_\_\_\_\_ nuevos soles.



# Tarea

► Fijate en la lista de precios y calcula cuánto cuestan los desayunos.

**Lista de precios**

 Leche S/.3.00	 Te: 50 céntimos	 Pastelito S/.9.00
 Cafe S/.2.00	 Galletas: 40 céntimos	 Churros S/.8.00
 Chocolate S/.5.00	 Quequito: S/.5.00	 Helados S/.10.00

**15** Leche y churros

Leche				
Churros				
Total				nuevos soles

**16** Leche y pastel

Leche				
Pastelito				
Total				nuevos soles

**17** Encierra en un círculo la cantidad de dinero que se solicita:



**28 soles**

**18**

Javier	Diego	Ursula
		
Yo tengo S/.19	Yo tengo S/.20 más que Javier	Yo tengo S/.20 más que Diego

¿Cuántos soles tiene Diego?

$$\square \bigcirc \square = \square$$

¿Cuántos soles tiene Ursula?

$$\square \bigcirc \square = \square$$