



FICHAS PARA PRIMARIA

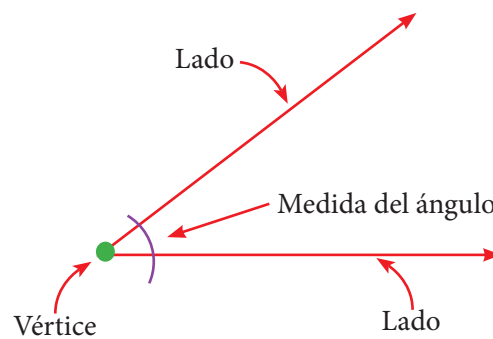
PRIMERO RAZ. MATEMÁTICO



Conteo de Figuras: Ángulos



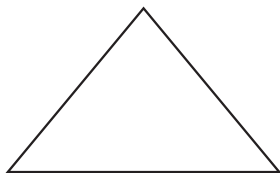
Un ángulo es una figura que se forma por la unión de dos líneas llamadas «rayos». Dichos rayos son los lados del ángulo, y la unión de ellos, el vértice del mismo.



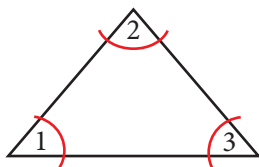
Actividades

► ¿Cuántos ángulos hay?

1

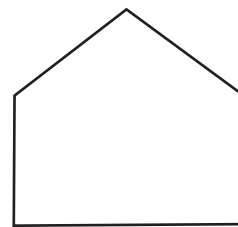


Resolución:




Hay 3 ángulos.

2



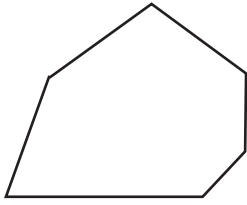
Hay _____ ángulos.

3




Hay _____ ángulos.

4



Hay _____ ángulos.



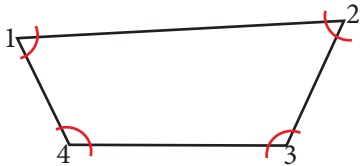
Exigimos más

► ¿Cuántos ángulos hay?

5

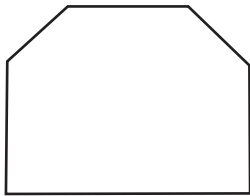


Resolución:



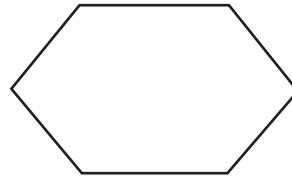
Hay 4 ángulos.

6



Hay _____ ángulos.

7



Hay _____ ángulos.

8



Hay _____ ángulos.



Demuestro mis habilidades

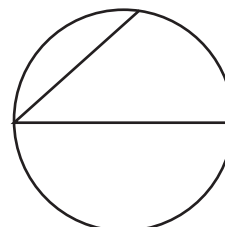
► Observa y completa.

9



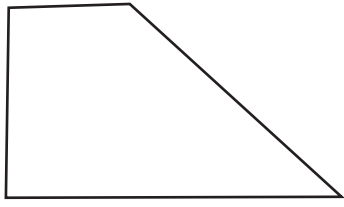
Hay _____ ángulos.

10



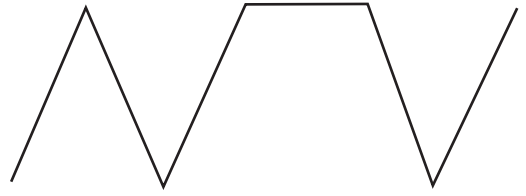
Hay _____ ángulos.

11



Hay _____ ángulos.

12



Hay _____ ángulos.