



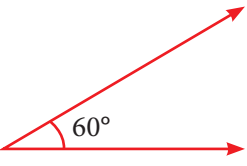
FICHAS PARA PRIMARIA

SEGUNDO RAZ. MATEMATICO

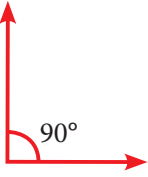


Conteo de Figuras: Ángulos

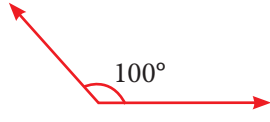
Ángulo agudo:
Es menor que 90° .
Ejemplo:



Ángulo recto:
Es igual a 90° .
Ejemplo:

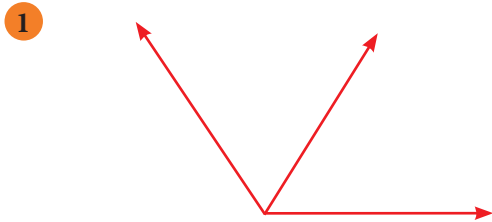


Ángulo obtuso:
Es mayor que 90°
pero menor que 180° .
Ejemplo:

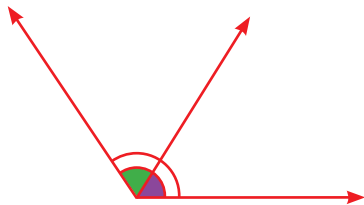


Actividades

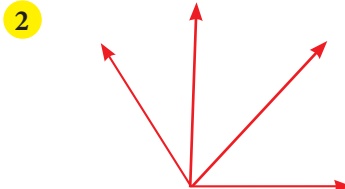
► ¿Cuántos ángulos hay en las siguientes figuras?




Resolución:




Hay 3 ángulos.




Hay _____ ángulos.



Hay _____ ángulos.

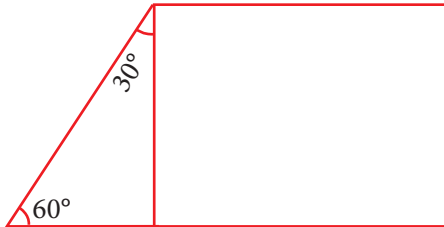


Hay _____ ángulos.

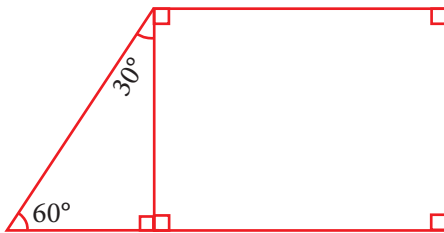


Exigimos más

5 ¿Cuántos ángulos rectos hay?



Resolución:



Podemos observar por simple inspección que hay 5 ángulos rectos.



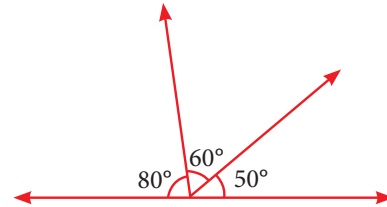
Demuestro mis habilidades

9 ¿Cuántos ángulos hay?



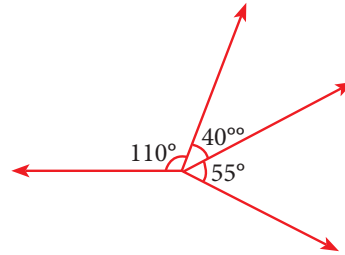
- a) 1
- b) 2
- c) 4
- d) 5
- e) 6

6 ¿Cuántos ángulos agudos hay?




Hay _____ ángulos agudos.

7 ¿Cuántos ángulos agudos hay?



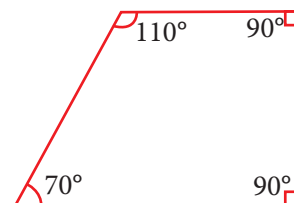
Hay _____ ángulos agudos.

8 ¿Cuántos ángulos obtusos hay?



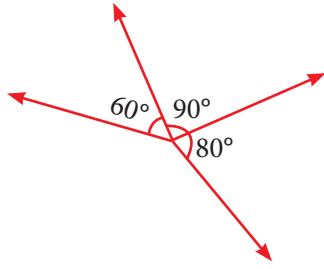
Hay _____ ángulos obtusos.

10 ¿Cuántos ángulos rectos hay?



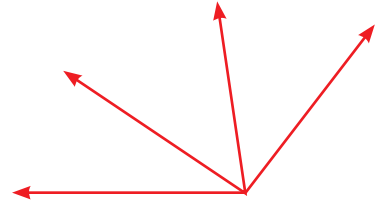
- a) 1
- b) 2
- c) 3
- d) 4
- e) 5

11 ¿Cuántos ángulos agudos hay?



- a) 1
- b) 2
- c) 3
- d) 4
- e) 5

12 ¿Cuántos ángulos hay?



- a) 2
- b) 4
- c) 6
- d) 8
- e) 9

