



# FICHAS PARA PRIMARIA

## TERCERO RAZ. MATEMATICO



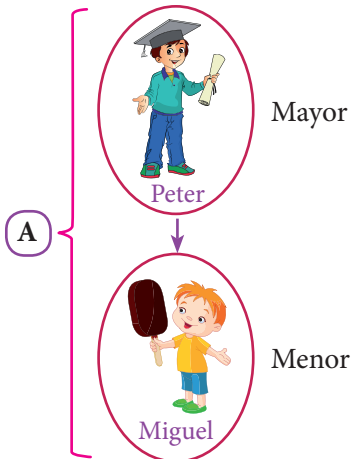
# Ordenamiento Lineal Vertical

### Observa el ejemplo

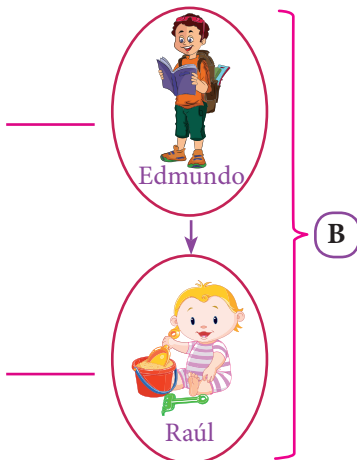
- ❖ Miguel es menor que Peter. Edmundo es mayor que Raúl. Si Miguel y Edmundo tienen la misma edad, ¿quién es el mayor de todos?  
a) Miguel  
b) Edmundo  
c) Peter  
d) Raúl

### Resolución:

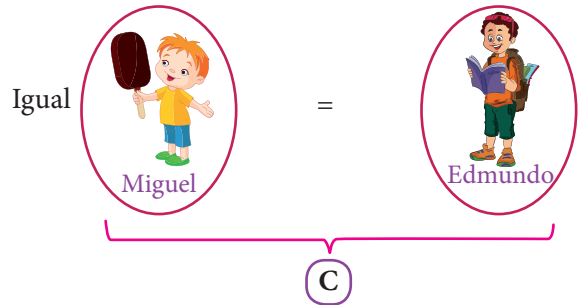
1. Miguel es menor que Peter.



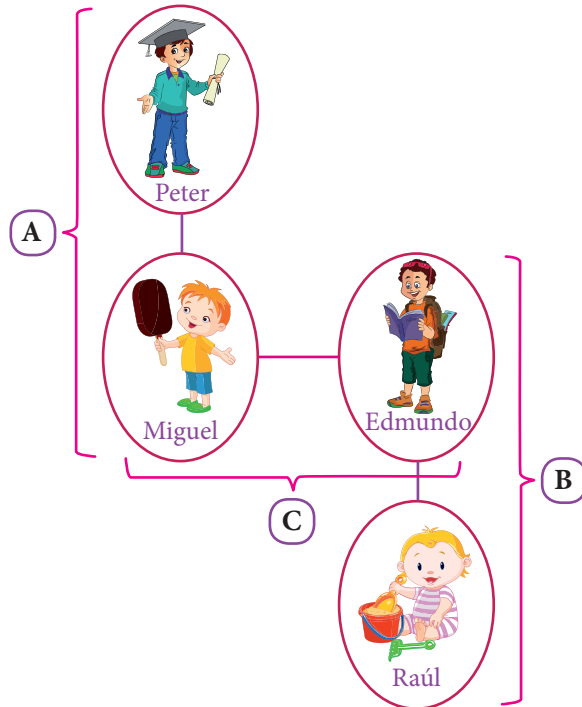
2. Edmundo es mayor que Raúl.



3. Miguel y Edmundo tienen la misma edad.



❖ Unimos y adecuamos los gráficos.



¡Ahora observamos que el mayor de todos es Peter!

Rpta.: c






## Actividades

1 Luisa es menor que María, pero mayor que Pamela, ¿quién es la mayor de todas?

- a) Luisa
- b) María
- c) Cristina
- d) Rosario
- e) Pamela

Resolución:



Rpta.: María

2 Jorge es menor que Roberto, pero mayor que Rusber, ¿quién es el menor de todos?

- a) Jorge
- b) Roberto
- c) Rusber
- d) Juan
- e) No se puede determinar

3 Edgar es más bajo que Richard. Jaime es más alto que Manuel. Edgar tiene la misma estatura que Jaime. Si Dilan es más bajo que Manuel, ¿quién es el más alto de todos?

- a) Edgar
- b) Manuel
- c) Richard
- d) Jaime
- e) Dilan

4 Patty tiene la misma edad que Nayeli. Raquel es menor que Patty. Gina es mayor que Nayeli. Si Carmen es mayor que Patty, ¿quién es la menor de todas?

- a) Patty
- b) Carmen
- c) Nayeli
- d) Gina
- e) Raquel



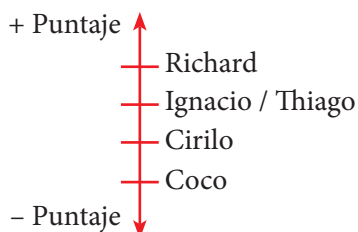
## Exigimos más

5 Cirilo obtuvo menos puntaje que Ignacio en una prueba. Richard obtuvo más puntaje que Thiago. Ignacio obtuvo el mismo puntaje que Thiago. Si Coco obtuvo menos puntaje que Cirilo, ¿quién obtuvo el mayor puntaje?

- a) Cirilo
- b) Thiago
- c) Richard
- d) Iván
- e) Carlos

Resolución:

Ordenando los datos en un gráfico tenemos:



Rpta.:

Richard obtuvo el mayor puntaje.

6 Santiago es menor que Russel. Luis es de la misma edad que Santiago. Francisco es menor que Santiago. Si Pablo es menor que Luis, ¿quién es el mayor de todos?

- a) Santiago
- b) Luis
- c) Francisco
- d) Russel
- e) Pablo

7 Elsa es más alta que Juana. Fátima tiene la misma estatura que Ceci. Elsa es más baja que Fátima. Si Ceci es más baja que Alida, ¿quién es la más baja de todas?

- a) Juana
- b) Elsa
- c) Fátima
- d) Ceci
- e) Alida

8 Lidia es mayor que Juana. Rosa es menor que Lidia. Juana es menor que Rosa. Si Inés tiene la misma edad que Rosa, ¿quién es la menor de todas?

- a) Lidia
- b) Juana
- c) Rosa
- d) Inés
- e) Silvana



## Demuestro mis habilidades

- 9** Chany es más bajo que Bernardo.  
Leonardo es más alto que Mario.  
Bernardo es más bajo que Leonardo.  
Chany y Mario tienen la misma estatura.  
¿Quién es el más alto de todos?  
a) Chany            c) Beto            e) Leonardo  
b) Mario            d) Álvaro
- 10** Solange es mayor que Esther.  
Irene tiene la misma edad que Esther.  
Meche es menor que Esther.  
Cecilia es mayor que Solange.  
¿Quién es la menor de todas?  
a) Meche            c) Esther            e) Cecilia  
b) Soledad            d) Irene
- 11** Si Nany es mayor que Vany, Sandra es menor que Vany y Nancy es mayor que Katy, ¿quién es la mayor de todas?  
a) Nancy            c) Vany  
b) Sandra            d) Katy
- 12** Las profesoras María, Silvia, Paty y Katy viven en un edificio de 3 pisos y hay 2 profesoras que comparten el mismo piso. María vive arriba de Silvia.  
a) Katy vive en el primer piso.  
b) Paty no vive con Katy.  
c) María vive arriba de Paty  
d) Silvia vive en el segundo piso.

