



FICHAS PARA PRIMARIA

PRIMERO RAZ. MATEMÁTICO



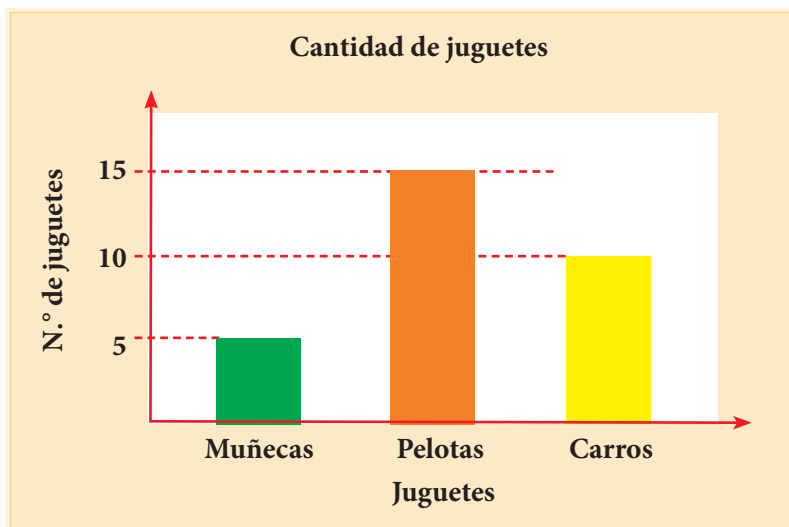
Gráfico de Barras



El gráfico de barras es una forma de representar la información que se obtiene a partir de un grupo de personas u objetos.



► Observa:

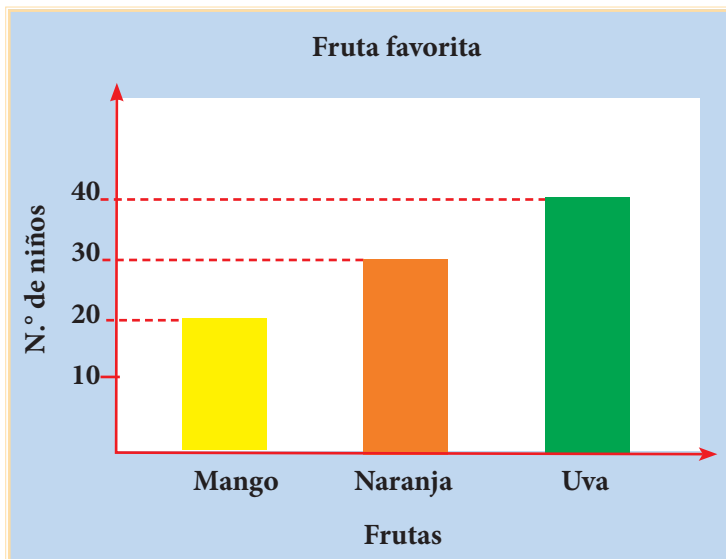


∴ Podemos notar que hay más pelotas.



Actividades

► Observa el gráfico de barras y luego responde.



1 ¿A cuántos niños les gustan las uvas?


Resolución:

A 40 niños les gustan las uvas.

2 ¿A cuántos niños les gustan las naranjas?

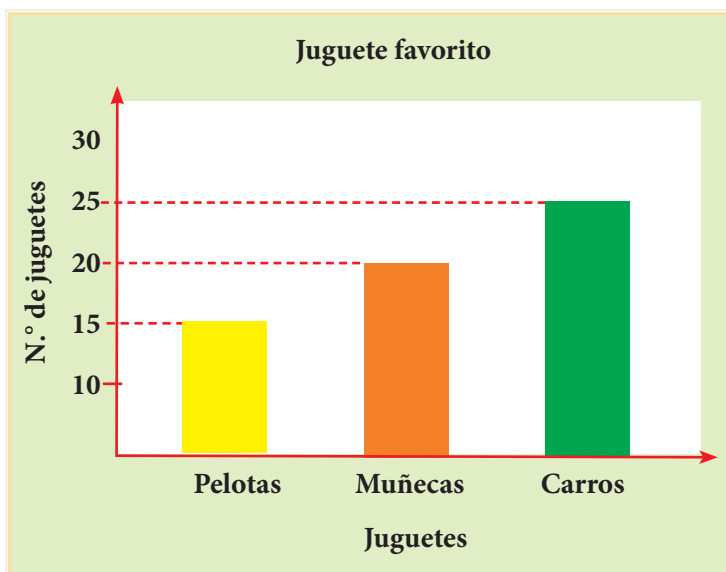
3 ¿Qué fruta es la que gusta a más niños?

4 ¿Qué fruta gusta menos?



Exigimos más

► Observa el gráfico de barras y luego responde.



5 ¿Cuántas pelotas y muñecas hay?

Resolución:

Pelotas 15 +

Muñecas $\frac{20}{35}$

Hay 35 en total.

6 ¿Cuántas pelotas y carros hay?

7 ¿Cuántos juguetes hay en total?

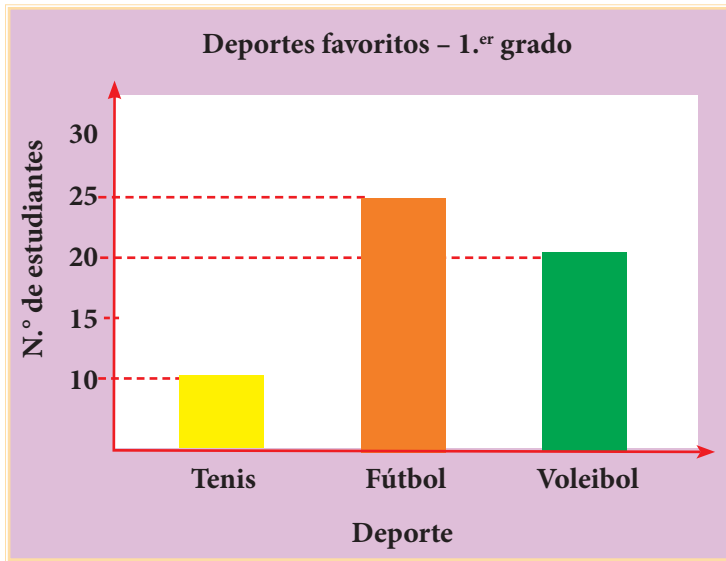
8 ¿Qué juguete hay en menor cantidad?



Demuestro mis habilidades



► Observa y completa.



- 9 ¿Qué deporte prefieren más estudiantes?
- 10 ¿Qué deporte prefieren menos estudiantes?
- 11 ¿Cuántos estudiantes hay en primer grado?
- 12 ¿A cuántos estudiantes les gusta el voleibol?