



FICHAS PARA PRIMARIA

SEXTO RAZ. MATEMÁTICO



Psicotécnico

Los test psicotécnicos nos permiten medir capacidades como memoria visual, atención, discriminación, entre otras. Los tipos de preguntas son muy diversos, esta vez nos centraremos en tres situaciones.

A. Figura que no corresponde

En este tipo de preguntas se muestran 4 o 5 figuras de las cuales una es diferente a las demás.

Ejemplo:


¿Cuál de las siguientes figuras no corresponde al grupo?



Resolución:

Mentalmente notamos las figuras de tal manera que el punto se encuentre en la parte superior. En esta posición se aprecia, fácilmente, que la patita más larga está ubicada hacia la izquierda en las figuras (a), (b), (c) y (e). Por ello, la figura que no guarda relación es la (d).

B. Test de dominó

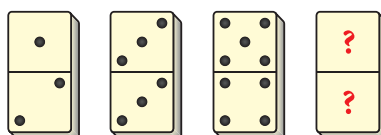


En este caso se debe tener en cuenta el orden de las fichas de dominó.



Ejemplo:

¿Qué ficha continúa?



Resolución:

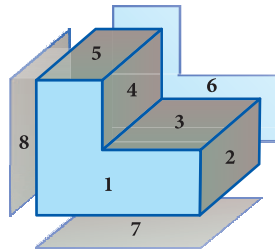
En las fichas se observa que en la parte superior los puntos avanzan de dos en dos, por lo tanto continuaría el número 7. Pero, como 7 no está representado en el dominó y este está después del 6, quien ocuparía el lugar 7 es la ficha cero.

C. Cantidad de caras de un sólido

Para resolver este tipo de preguntas debemos tener en cuenta que los sólidos no solo tienen las caras que podemos ver, sino también, las caras «ocultas» que deben ser contadas.

Ejemplo:

Determina el número de caras del sólido:



Rpta.: El sólido tiene 8 caras.

Trabajando en clase

Nivel básico

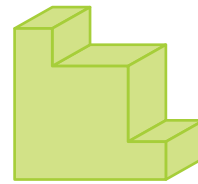
1. Señala la figura que no guarda relación con las demás:

- a)
- b)
- c)
- d)
- e)

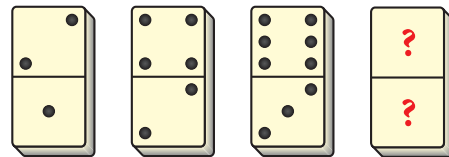
2. Señala las tres figuras que no guardan relación con las demás:

- a)
- b)
- c)
- d)
- e)
- f)
- g)
- h)

3. ¿Cuántas caras tiene el sólido?

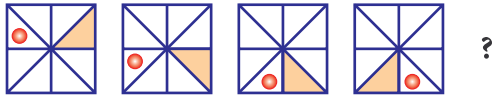


4. ¿Qué ficha continúa?



Nivel intermedio

5. ¿Qué figura continúa en la siguiente sucesión?

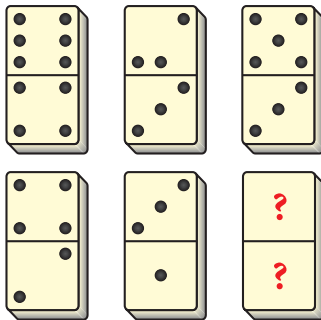


- a)
- b)
- c)
- d)
- e)

6. ¿Qué figura no guarda relación con las demás?

- a)
- b)
- c)
- d)
- e)

7.



- a)
- b)
- c)
- d)
- e)


Nivel avanzado

8. ¿Cuántas caras tiene el sólido?




- a) 9
- b) 11
- c) 10
- d) 8
- e) 12

9. ¿Cuántas caras tiene el sólido?



- a) 14
- b) 13
- c) 12
- d) 11
- e) 10



COLEGIOS

10. ¿Qué ficha continúa?

