



FICHAS PARA PRIMARIA

SEGUNDO RAZ. MATEMÁTICO



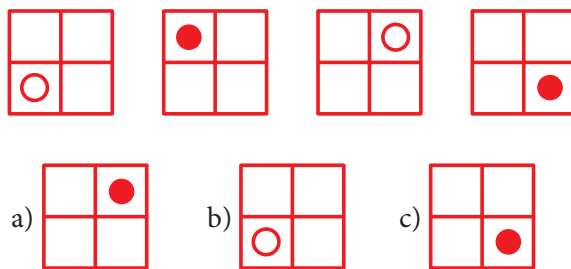
Psicotécnico

I. ¿Qué figura continúa?

Una sucesión gráfica es una secuencia de figuras ordenadas mediante cierto criterio de formación que debemos descubrir. El criterio de formación puede ser de acuerdo a su forma, tamaño, color, etc.

Ejemplo 1

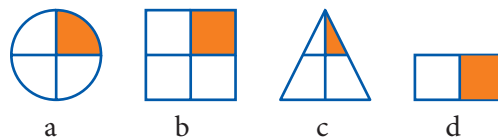
¿Cuál es la figura que sigue?



Observamos y descubrimos que la bolita está girando en sentido horario y cambia intercaladamente de color con cada movimiento. Entonces la alternativa correcta es la b.

Ejemplo 2

¿Cuál es la figura que no guarda relación con las demás?



Observamos que todas las figuras están divididas en 4 partes, quedando una parte sombreada y 3 partes no sombreadas; entonces, la figura que no guarda relación es la d.

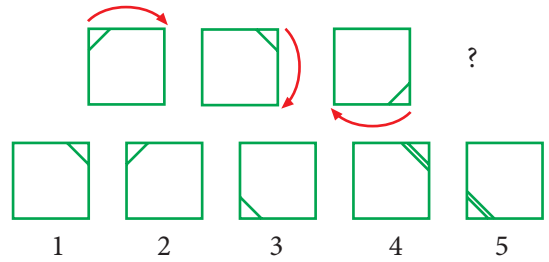


Actividades

1 ¿Cuál de las figuras continúa?

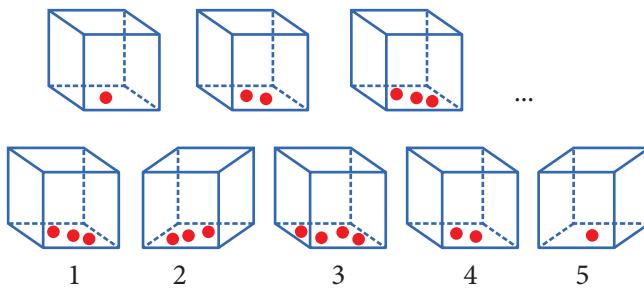
Resolución:

- ❖ Observa que la diagonal de la esquina va girando en sentido horario.
- ❖ Entonces, la figura 3 es la que continúa.



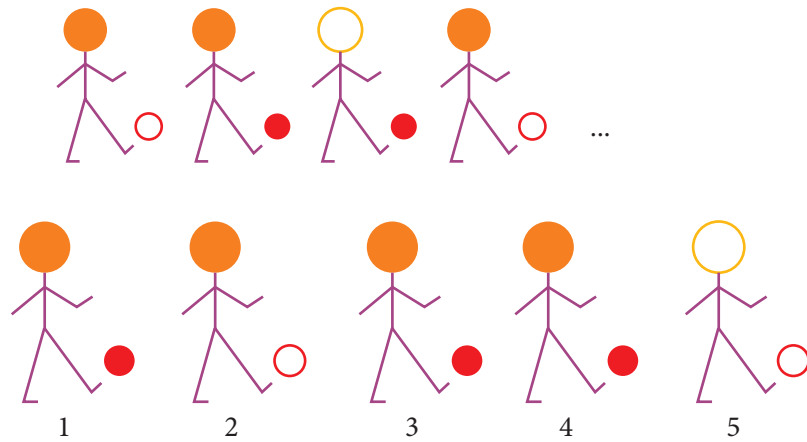
2

- a) 2
- b) 5
- c) 1
- d) 4
- e) 3




3

- a) 4
- b) 1
- c) 5
- d) 3
- e) 2



4

- a) 5
- b) 1
- c) 4
- d) 3
- e) 2

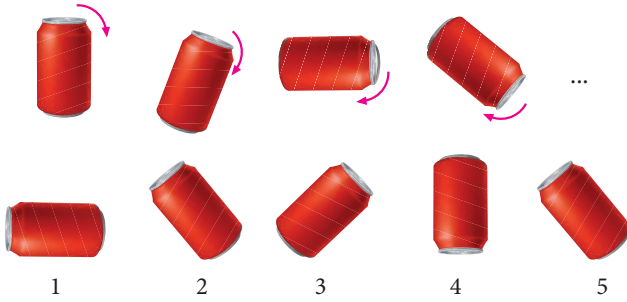




Exigimos más

¿Cuál de las figuras continúa?

5




Resolución:

La figura va girando en sentido horario, entonces la figura 4 es la que continúa.

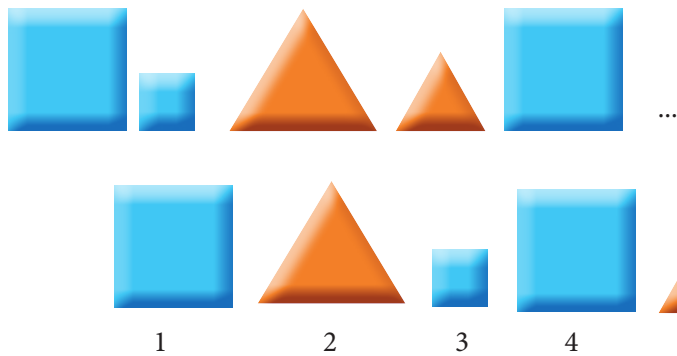
6

- a) 5
- b) 2
- c) 3
- d) 4
- e) 1



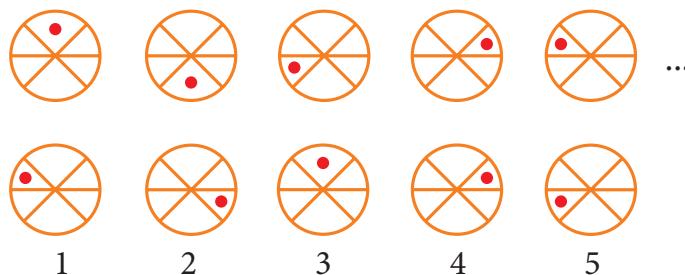
7

- a) 5
- b) 4
- c) 3
- d) 2
- e) 1



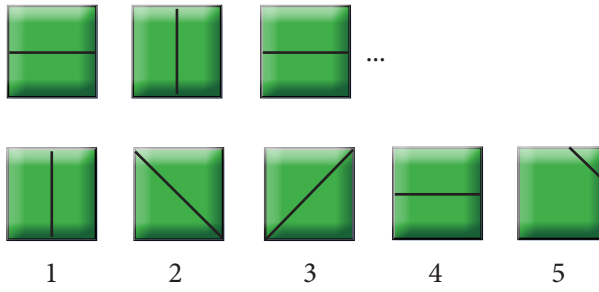
8

- a) 1
- b) 2
- c) 5
- d) 4
- e) 3



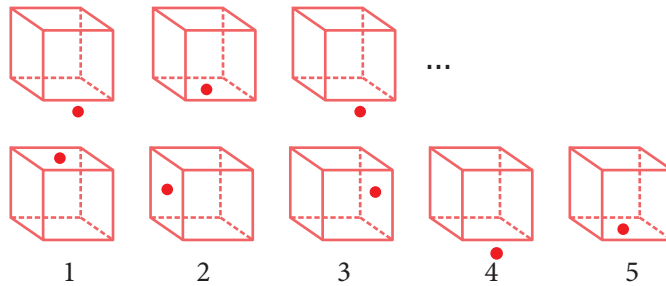
9

- a) 5
- b) 2
- c) 1
- d) 3
- e) 4



10

- a) 3
- b) 5
- c) 4
- d) 1
- e) 2

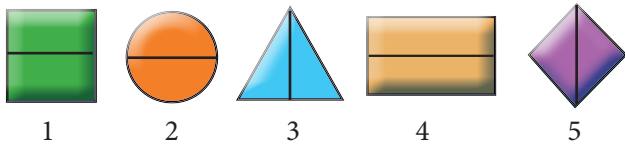


Demuestro mis habilidades




¿Cuál de las figuras no guarda relación con las demás?

11



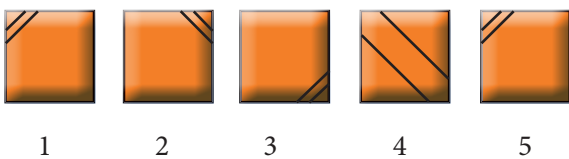
- a) 4
- b) 5
- c) 1
- d) 2
- e) 3

13



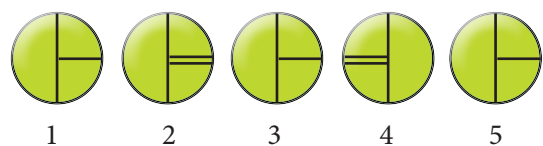
- a) 4
- b) 5
- c) 1
- d) 2
- e) 3

12



- a) 4
- b) 3
- c) 2
- d) 1
- e) 5

14



- a) 5
- b) 2
- c) 4
- d) 1
- e) 3