



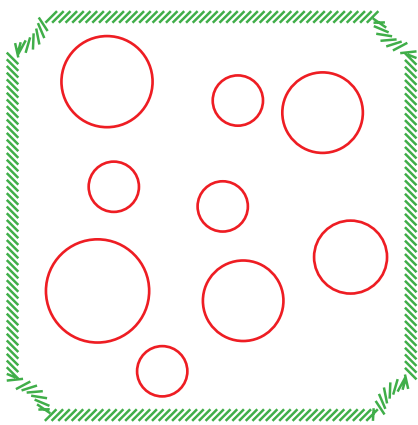
# FICHAS PARA PRIMARIA

## TERCERO ALGEBRA

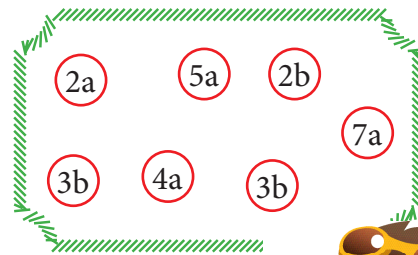


# AGRUPAMOS TÉRMINOS SEMEJANTES

Colorea de azul los círculos pequeños y de rojo los grandes.



Colorea los términos semejantes a  $9a$  de azul y los semejantes a  $18d$  de rojo.



## Actividades

- 1 Agrupamos términos semejantes por signo.  
 $-12x + 15x - 13x + 2x$   
 ¿Cuántos términos con signo positivo hay?

Resolución:


signo positivo (+)	signo negativo (-)
+ 15x + 2x	-12x -13x


Rpta.: Hay 2 términos con signo positivo.

- 2 Agrupamos términos semejantes por signo.  
 $-4m + 5m - 17m + 45m$   
 ¿Cuántos términos con signo negativo hay?

- 3 Agrupamos términos semejantes por signo.  
 $3a - 2a + 3a - 4a - 3a$   
 ¿Cuántos términos con signo negativo hay?

- 4 Agrupamos términos semejantes por signo.  
 $-7m + 14m - 21m + 25m + 7m$   
 ¿Cuántos términos con signo positivo hay?





## Exigimos más

- 5 Agrupamos términos semejantes por signo.  
 $-15a + 12a - 14a + 17a - 12a$   
¿Cuántos términos con signo negativo hay?

Resolución:

signo positivo (+)	signo negativo (-)
+ 12a	-15a
+ 17a	-14a
	-12a

Rpta.: Hay 3 términos con signo negativo.

- 6 Agrupamos términos semejantes por signo.  
 $27a - 15a + 17a - 75a + 9a$   
¿Cuántos términos con signo positivo hay?

- 7 Agrupamos términos semejantes por signo.  
 $13m - 45m - 47m + 49m + 51m$   
¿Cuántos términos con signo positivo hay?

- 8 Agrupamos términos semejantes por signo.  
 $-71a + 13a - 79a - 14a - 13a$   
¿Cuántos términos con signo negativo hay?



## Demuestro mis habilidades

- 9 Agrupamos términos semejantes por signo.  
 $5a - 6a - 7a - 8a$   
¿Cuántos términos con signo positivo hay?

- 10 Agrupamos términos semejantes por signo.  
 $-12a - 13a - 14a + 15a - 19a$   
¿Cuántos términos con signo negativo hay?

- 11 Agrupamos términos semejantes por signo.  
 $-23b + 24b - 25b + 26b - 13b$   
¿Cuántos términos con signo positivo hay?

- 12 Agrupamos términos semejantes por signo.  
 $14a + 15a - 24a - 25a$   
¿Cuántos términos con signo negativo hay?

