



# FICHAS PARA PRIMARIA

## PRIMERO GEOMETRIA



# Medida de un Segmento con Unidades Arbitrarias

Hoy necesitamos los palipamer.

- ▶ 10 palipamer de color rojo, los cuales tienen 2 cm de longitud y representan 2u.
- ▶ 10 palipamer de color verde, los cuales tienen 3 cm de longitud y representan 3u.
- ▶ 5 palipamer de color azul, los cuales tienen 4 cm de longitud y representan 4u.
- ▶ 5 palipamer de color amarillo, los cuales tienen 5 cm de longitud y representan 5u.



- ▶ Completa el siguiente cuadro midiendo con los palipamer según corresponda.

	ancho aproximado del cuaderno de geometría	largo aproximado de un fólder	largo aproximado de un lápiz
Palipamer rojo			
Palipamer verde			
Palipamer azul			
Palipamer amarillo			





## Actividades

- 1 Con el uso del palipamer rojo, ¿cuánto mide el  $\overline{AB}$ ?



Resolución:



Respuesta:

El  $\overline{AB}$  mide 2 palipamer rojos.  
 $2 + 2 = 4u$

- 2 Con el uso del palipamer rojo, ¿cuánto mide aproximadamente el  $\overline{AB}$ ?



- 3 Con el uso del palipamer azul, ¿cuánto mide aproximadamente el  $\overline{CD}$ ?

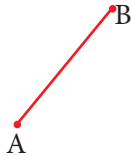


- 4 Con el uso del palipamer verde, ¿cuánto mide aproximadamente el  $\overline{RS}$ ?

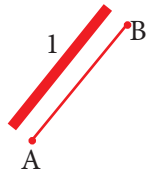


## Exigimos más

- 5 Con el uso del palipamer rojo, ¿cuánto mide el  $\overline{AB}$ ?




Resolución:




El  $\overline{AB}$  mide 1 palipamer rojo, solo mide 2 u.

- 6 Con el uso del palipamer amarillo, ¿cuánto mide aproximadamente el  $\overline{MN}$ ?



- 7 Con el uso del palipamer azul, ¿cuánto mide aproximadamente el  $\overline{PQ}$ ?



- 8 Con el uso del palipamer azul, ¿cuánto mide aproximadamente el  $\overline{AB}$ ?







## Demuestro mis habilidades




9 Con el uso del palipamer verde, ¿cuánto mide aproximadamente el  $\overline{FE}$ ?



11 Con el uso del palipamer amarillo, ¿cuánto mide aproximadamente el  $\overline{AB}$ ?



10 Con el uso del palipamer verde, ¿cuánto mide aproximadamente el  $\overline{AG}$ ?



12 Con el uso del palipamer rojo, ¿cuánto mide aproximadamente el ?

