























FICHAS PARA PRIMARIA

CUARTO GEOGRAFÍA



Actividad Económica Secundaria

¡Observa con atención!

<p>Transforma la materia prima</p> 	<p>Industria</p> 	<p>En bienes elaborados y servicios variados</p> <table border="1"><tr><td data-bbox="977 666 1085 698">PRODUCTOS</td><td data-bbox="1255 666 1362 698">SERVICIOS</td></tr><tr><td></td><td></td></tr><tr><td></td><td></td></tr><tr><td></td><td></td></tr></table>	PRODUCTOS	SERVICIOS						
PRODUCTOS	SERVICIOS									
										
										
										

Para que pueda existir la industria se necesita de cuatro factores llamados bases de la industria:

1. **Materia prima:** Puede ser animal, mineral, vegetal o artificial (hecho por el hombre), como por ejemplo: madera, uvas, leche, etc.
2. **Trabajo:** Es la fuerza física o mental que realiza el hombre para poder producir.
3. **Capital:** Permite producir bienes como las maquinarias y el dinero.
4. **Fuentes de energía:** Impulsan la industria: energía eléctrica, hidrocarburos, nuclear, solar, eólica (vientos), etc.

La industria peruana se desarrolla principalmente en las grandes ciudades como Lima, Trujillo, Chiclayo, Piura, Tacna, Arequipa, Cusco e Iquitos. Las demás ciudades del Perú cuentan con industrias ligeras, encargadas de la fabricación de medios de consumo como alimentos, vestidos y artículos de uso doméstico.

¿Cuáles son las principales industrias nacionales?

- | | |
|---|--|
| <p>A. Industria textil y del vestido: de algodón, lana y sintéticos.</p> <p>B. Industria de productos alimenticios: azúcar, leche, aceite, harina, bebidas, conservas, etc.</p> <p>C. Industria de productos químicos y farmacéuticos: orgánicos e inorgánicos.</p> <p>D. Industria de construcción.</p> <p>E. Industria de metales de construcción.</p> <p>F. Industria siderúrgica, metalúrgica y metalmeccánica.</p> | <p>3. Industria de uso o consumo: denominada también industria ligera. Es aquella que tiene que ver con los bienes finales como alimentos, telas, cueros, pieles, harinas, etc.</p> |
|---|--|

La industria se clasifica de la siguiente forma:

1. **Industria de base o pesada:** transforma los recursos naturales y requiere de alta tecnología: siderúrgica y metalúrgica.
2. **Industria de equipo:** conformada por la industria de la construcción, de cementos, ladrillos, de maquinarias, etc.

Recuerda

Para fines del año 2013 se elaboró el Plan Nacional de Desarrollo Industrial Inclusivo con la finalidad de producir bienes con mayor valor.

Retroalimentación

1. ¿Qué es la industria?

2. ¿Cuáles son las clases de industria?

3. ¿Cuáles son las bases de la industria?

4. ¿Cuáles son las ciudades con mayor industrialización en el Perú?

Trabajando en clase

Con ayuda de tu profesor y según el ejemplo, relaciona las imágenes con cada clase de industria:



Industria de consumo

Industria de base

Industria de equipo

Verificando el aprendizaje

1. El aumento de la población y las necesidades humanas ha llevado a la _____. (UNI 2011 - I)
 - a) explotación controlada de los recursos naturales
 - b) distribución ordenada de los recursos naturales
 - c) explotación limitada de los recursos naturales
 - d) explotación excesiva de los recursos naturales
 - e) explotación racional de los recursos naturales
2. Es la industria encargada de la producción de alimentos:
 - a) Industria textil
 - b) Industria de equipo
 - c) Industria energética
 - d) Industria de consumo
 - e) Industria de base
3. La lana y el algodón forman parte de la industria _____.
 - a) de cueros
 - b) de pieles
 - c) peletera
 - d) textil
 - e) de alimentos
4. La industria es una actividad _____.
 - a) primaria
 - b) extractiva
 - c) terciaria
 - d) secundaria
 - e) productiva secundaria
5. Una de la siguientes ciudades no tiene desarrollo industrial considerable:
 - a) Trujillo
 - b) Lima
 - c) Iquitos
 - d) Cusco
 - e) Arica
6. Es la ciudad con mayor desarrollo industrial en el Perú:
 - a) Trujillo
 - b) Arequipa
 - c) Cusco
 - d) La Libertad
 - e) Lima

