



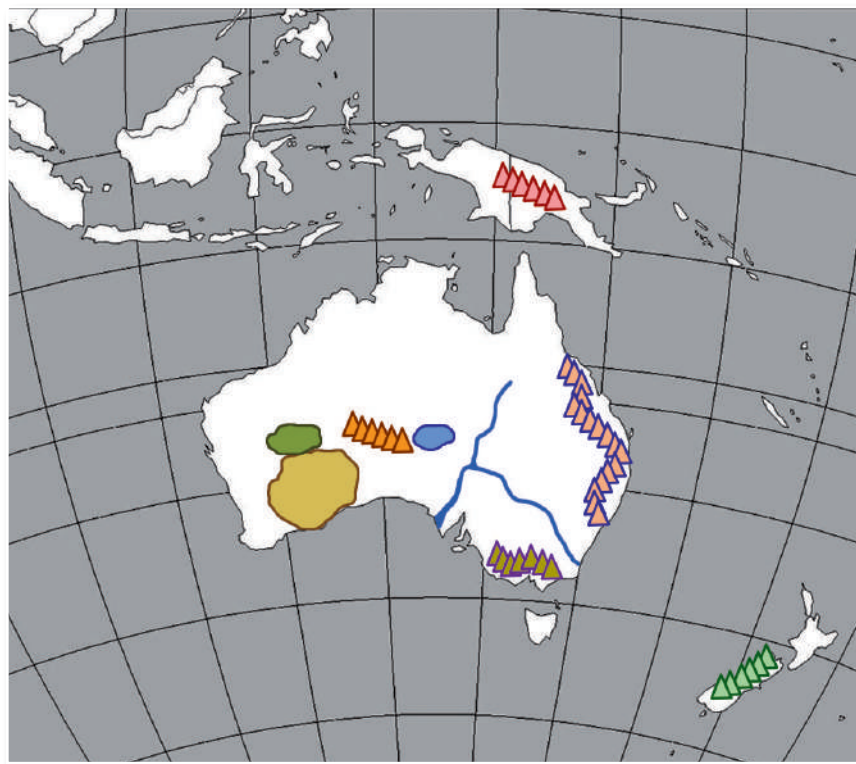
# FICHAS PARA PRIMARIA

## CUARTO GEOGRAFÍA



## El Continente de las Islas: Oceanía II

Oceanía es llamado el «continente del mar». La mayor parte de su territorio se concentra en Australia y lo demás esparcido entre las decenas de islas que la conforman. Australia posee los relieves y ríos más importantes de este continente, como cordilleras, montañas, mesetas, desiertos, ríos y lagos. Identifiquemos las principales geoformas (formas de relieve) en el siguiente mapamundi:



### ¿Sabías que...?

Australia, Nueva Zelanda y Papúa Nueva Guinea forman la mayor parte del territorio de Oceanía.

### Recuerda


Oceanía toma ese nombre porque está rodeada por los océanos Pacífico, Atlántico e Índico.

## Retroalimentación

1. ¿Por qué Oceanía es considerado el continente marítimo?  
\_\_\_\_\_  
\_\_\_\_\_
2. ¿Cuáles son los ríos más importantes y largos de Oceanía?  
\_\_\_\_\_  
\_\_\_\_\_
3. ¿Qué países conforman el mayor porcentaje de tierras de este continente?  
\_\_\_\_\_  
\_\_\_\_\_
4. ¿Qué océanos rodean a Oceanía?  
\_\_\_\_\_  
\_\_\_\_\_

## Trabajando en clase


- Observa las siguientes banderas y, con la ayuda de tu profesor, escribe los nombres de los países que correspondan.



A \_ \_ \_ \_ \_ A




N \_ \_ A G \_ \_ \_ A




N \_ \_ A Z \_ \_ \_ \_ A



P \_ \_ \_ U




F \_ \_ I



S \_ \_ \_ A



K \_ \_ \_ \_ \_ I



T \_ \_ \_ \_ U

## Verificando el aprendizaje

1. La bandera de estos dos países son muy parecidos, nos referimos a \_\_\_\_\_.
  - a) Kiribati y Tonga
  - b) Tuvalu y Nueva Zelanda
  - c) Australia y Nueva Zelanda
  - d) Nueva Zelanda y Nueva Guinea
  - e) Nueva Guinea e islas Fiyi
2. Canberra es capital de \_\_\_\_\_.
  - a) Las islas Fiyi
  - b) Australia
  - c) Nueva Guinea
  - d) Tasmania
  - e) Nueva Zelanda
3. Los ríos \_\_\_\_ y \_\_\_\_ son los más largos de Oceanía y se localizan en \_\_\_\_\_.
  - a) Nilo - Darling - Australia
  - b) Murray - Caspio - Australia
  - c) Murray - Darling - Nueva Zelanda
  - d) Murray - Darling - Nueva Guinea
  - e) Murray - Darling - Australia
4. Al este de Australia se localiza:
  - a) El volcán Musgrave
  - b) La Gran Cadena de Corales del oeste
  - c) La Gran Cordillera Divisoria
  - d) Los montes Titanes
  - e) Los montes Escandinavos
5. El lago más extenso de Oceanía se denomina:
  - a) Victoria
  - b) Arena
  - c) Gibson
  - d) Eyre
  - e) Ladoga
6. Los Alpes del Sur se localizan en \_\_\_\_\_.
  - a) Papúa Nueva Guinea
  - b) Nueva Zelanda
  - c) Nueva Orleans
  - d) Nueva Caledonia
  - e) Australia

